


nom : _____

date début : _____

L	M	M	J	V
L	M	M	J	V
L	M	M	J	V
L	M	M	J	V
L	M	M	J	V

Manuel Maths Explicites CM2 (Hachette - 2016)

a	b	c	calcul mental d
e	f	g	total



évaluation

Mesures : périmètre du carré et du rectangle

page 98

exercice 1

exercice 6

page 99

exercice 11


exercice 13

découverte



exercices

au tableau



évaluation

Problèmes : choisir la bonne opération

page 160

exercice 3

page 161

exercice 4

exercice 6


exercice 7

découverte



exercices

au tableau



évaluation

Comparer et ranger les nombres décimaux

page 36

exercice 2

exercice 4

exercice 6

page 37


exercice 18

découverte



exercices

au tableau



évaluation

Diviser par un nombre à deux chiffres

page 70

exercices 4 et 5

exercice 6 (4 opérations)

page 71

exercice 10


exercice 14

découverte



exercices

au tableau



évaluation

Mesures : les unités de masse

page 94 ex 1 page 95 ex 8

page 94

exercice 2

exercice 5

page 95


exercice 14

découverte



exercices

au tableau



évaluation

Géométrie : identifier et reproduire une figure

page 130

exercice 2

exercice 3

page 131

exercice 8

exercice 11


découverte



exercices

au tableau

Paliers : pO : 1 orange, cO : 1 vert, cV : 2 verts, cC : 3 verts, Xp : 4 verts (par compétence)



Savoir présenter clairement et proprement un exercice de Maths



Ecrire lisiblement en respectant les normes Mathématiques

Signature des parents

Xp	
cC	
cV	
cO	
pO	

Palier atteint